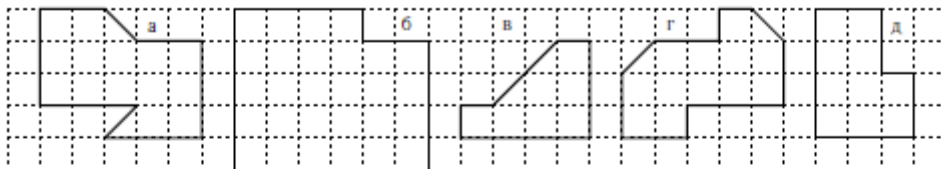


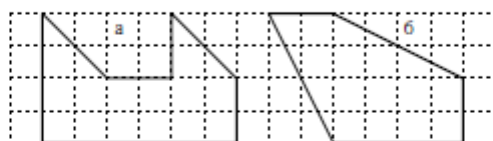
# Разрезания

Две фигуры считаются равными, если они одинаковы по форме и по размеру (их можно совместить наложением, если вырезать из бумаги).

1 Разрежьте фигуры на 2 равные части.



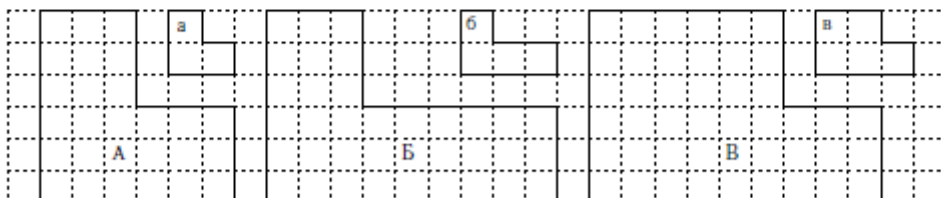
2 Можно ли разрезать эти фигуры на 2 равные части?



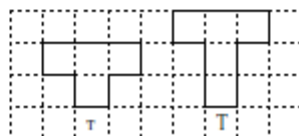
3 Как разрезать эти фигуры на 3 равные части?



4 Разрежьте фигуру А на фигуры а, фигуру В на фигуры б, а фигуру В на фигуры в.



5 Нарисуйте фигуру, которую можно сложить из пяти фигурок т, а потом разрезать на четыре фигурки Т.



6 Попробуйте разрезать эти фигуры на 2 равные части.

